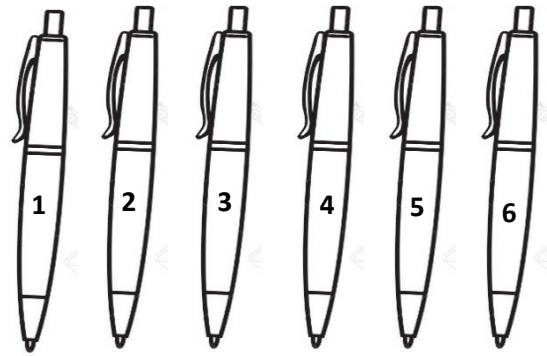




3. Az alábbi állítások szerint színezd ki a tollakat!



- A piros toll a kék és a sárga között áll.
- A páros számú íróeszközök egyike sem kék, sárga vagy barna.
- Az 5-ös toll egyik szomszédja zöld, a másik szürke.
- A két középen álló egyike zöld, a másik sárga.



6	
---	--

4. A király főépítésze egy 5 méteres, egy 6 méteres és egy 7 méteres fagerendát 1 méteres darabokra fűrészelt. Ha egy fűrészelés ideje 3 perc volt, mennyi ideig tartott a 3 fagerenda darabokra vágása?

Rajzolj! Számolj! Válaszolj!



7	
---	--

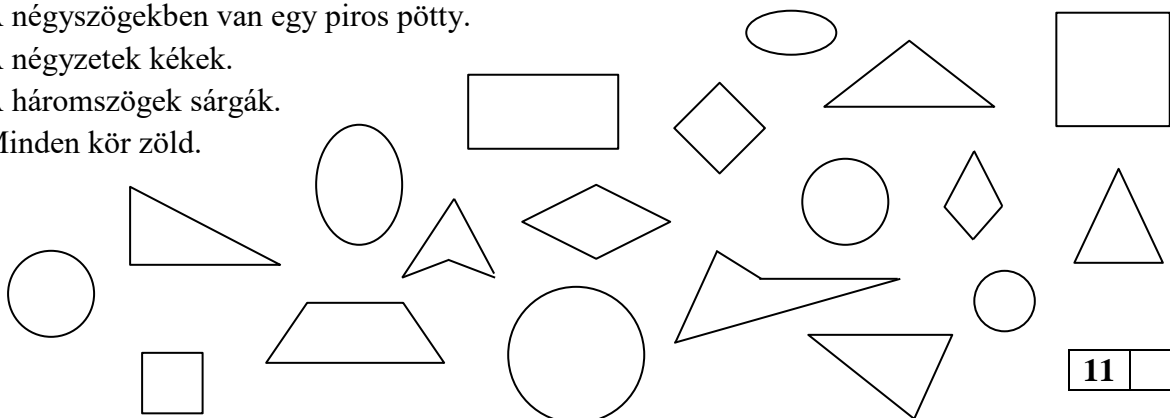
5. A kis manók a mesebeli erdei tisztáson nagyság szerint felsorakoztak, majd egy kört alakítottak a játékhoz. A legkisebb manótól jobbra és balra is 13-an álltak. Hány manó játszott a körjátékban? Indokold állításodat! (Segít, ha rajzolsz.)



4	
---	--

6. Színezz úgy, hogy a következő állítások igazak legyenek!

- A négyszögekben van egy piros pötty.
- A négyzetek kékek.
- A háromszögek sárgák.
- Minden kör zöld.



11	
----	--

7. Melyik testtel melyik lenyomatot készíthettük?  
Kösd össze!



4	
---	--

Összes pont

50	
----	--